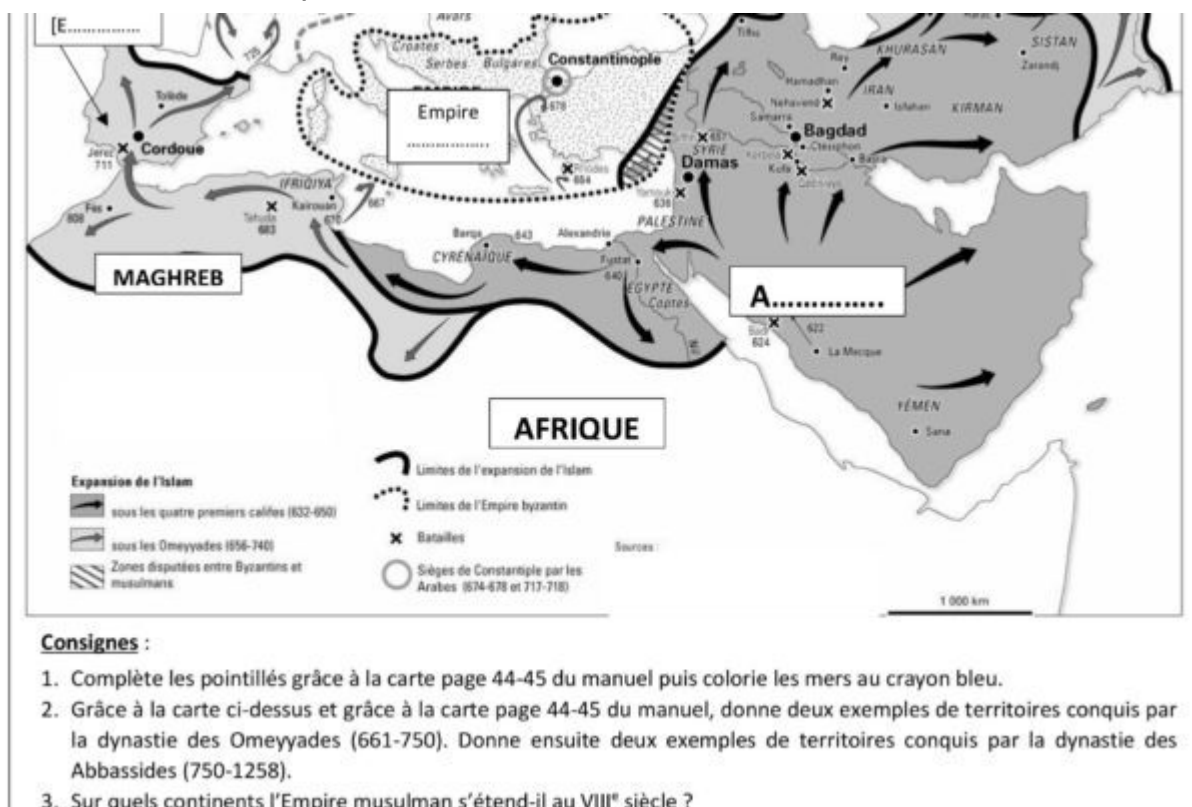


La propagande pro-musulmane des néo-historiens en direction des enfants de France s'intensifie ...

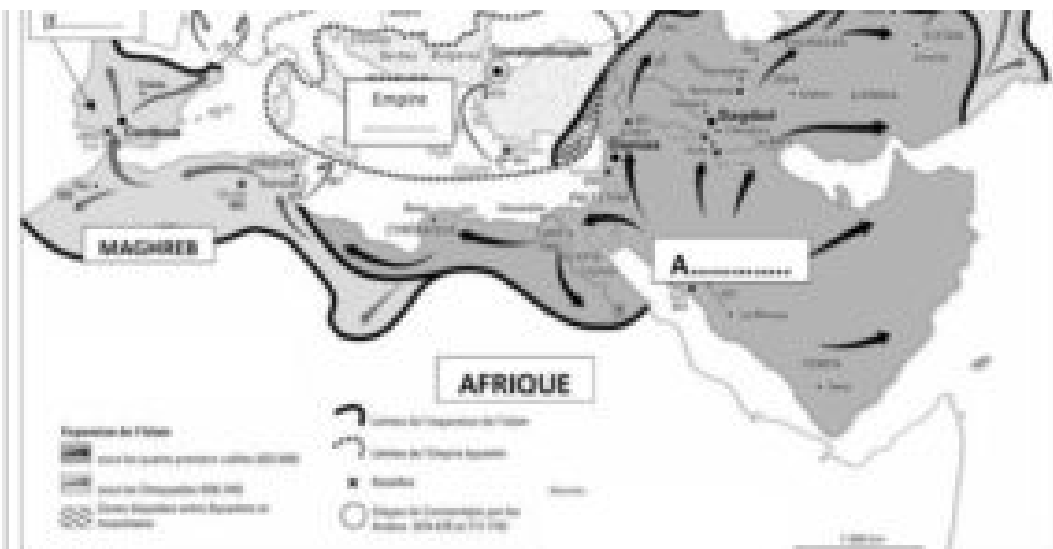
écrit par Joël | 15 novembre 2018



Puisqu'on parle d'école et d'islam, avez-vous lu ça ? :

Lisez bien l'encadré en bas de page.

Voilà ce qu'on apprend à nos gosses dans l'épuration nationale.



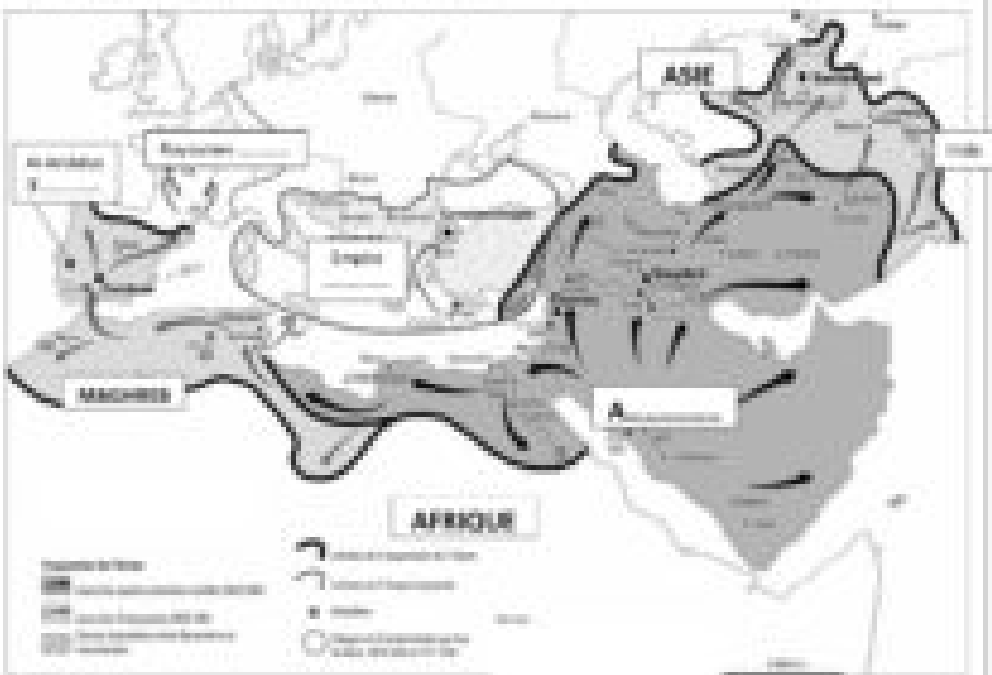
Consignes :

1. Complète les pointillés grâce à la carte page 44-45 du manuel puis colore les mers au crayon bleu.
2. Grâce à la carte ci-dessous et grâce à la carte page 44-45 du manuel, donne deux exemples de territoires conquis par la dynastie des Omeyyades (661-750). Donne ensuite deux exemples de territoires conquis par la dynastie des Abbassides (750-1258).
3. Sur quels continents l'Empire musulman s'étend-il au VIII^e siècle ?

La diffusion de l'islam du VII^e au IX^e siècle

En trois siècles, du VII^e au IX^e siècles, sous le signe de deux dynasties différentes (les Omeyyades et les Abbassides), les Arabes ont conquis un immense territoire, qui s'étend de l'Espagne à l'Inde, dans lequel vivent des populations très différentes (Espagnols, Indiens, Noirs africains, chrétiens, juifs, etc.) (voir le travail n° 3 + Document 04). Les Arabes étaient tolérants et acceptaient que les populations gardent leur religion.

Document 01 - Les conquêtes de l'islam au VII^e et VIII^e siècles



Consignes :

1. Complète les questions-pêches à la carte page 44-45 du manuel puis colore les noms au crayon bleu.
2. Vérifie si la carte ci-dessus et celle à la carte page 44-45 du manuel, donne deux exemples de territoires conquis par le domaine des Omeyyades (661-750). Donne ensuite deux exemples de territoires conquis par le domaine des Abbassides (750-1258).
3. Sur quels continents l'Empire musulman s'étendit au VIII^e siècle ?
4. Sur la frise chronologique (Document 02), recite les évènements demandés dans les corrigés n° 3 et 4.
5. D'après la carte du manuel, donne le nom d'un pays d'Europe presque entièrement conquis par les musulmans.
6. D'après la carte du manuel, la bataille de Poitiers en 732 est-elle une victoire ou une défaite pour les musulmans ?

Approfondissement - Demande la lecture de Poitiers à l'effigie du sultanide au Centre droit sous l'effigie au 08/09/21

« Depuis le début des années 2000, Charles Martel est l'objet d'attentions particulières par l'industrie de la mode. Cette ceinture dans la bataille de Poitiers en 732 est un objet fondamental d'un conflit qui dure depuis plusieurs siècles entre l'Occident chrétien et l'Islam. (Pour l'industrie de la mode), les musulmans de France et d'Europe veulent une année d'inspiration qu'il faudrait récupérer de l'histoire en usant de trousseaux militaires, comme l'a fait Charles Martel en 732 en vaincant l'armée d'invasion musulmane par les musulmans »

D'après une photographie

1. D'après la photo ci-dessus, pourquoi la bataille de Poitiers de 732 est-elle importante pour l'industrie de la mode ?
2. D'après le documentaire, donne deux exemples montrant que la réinterprétation de cette bataille par l'industrie de la mode ne correspond pas à la réalité historique.

Voci le prof en question :

<https://www.fdesouche.com/1105845-sujet-dhistoire-geographie-pour-eleves-de-5eme-sur-lislam-et-charles-martel>

Complément par Jean-Paul Saint-Marc

A lire la correction :

Correction des activités de la 3^{ème} leçon.

Activité n° 1 : Répondre à des questions sur une carte montrant les conquêtes musulmanes (Document D).

1. Complète les pointillés grâce à la carte page 44-45 du manuel puis colore les mers au crayon bleu.
2. Grâce à la carte ci-dessus et grâce à la carte page 44-45 du manuel, donne deux exemples de territoires conquis par la dynastie des Omeyyades (661-750). Donne ensuite deux exemples de territoires conquis par la dynastie des Abbassides (750-1258).
 - Les deux exemples de territoires conquis par la dynastie des Omeyyades sont (ou choisis) : l'Arabie, la Syrie ou l'Égypte.
 - Les deux exemples de territoires conquis par la dynastie des Abbassides sont : Al-Andalus [= Espagne] et le Maghreb.
3. Sur quels continents l'Empire musulman s'étend-il au VIII^e siècle ?
Au VIII^e siècle, l'Empire musulman s'étend sur l'Asie et l'Europe [= Eurasie] et sur l'Afrique.
4. Sur la frise chronologique (Document B), fais les travaux demandés dans les consignes n° 3 et 4.
5. D'après la carte du manuel, donne le nom d'un pays d'Europe presque entièrement conquis par les musulmans.
L'Espagne est un pays d'Europe presque entièrement conquis par les musulmans.
6. D'après la carte du manuel, la bataille de Poitiers en 732 est-elle une victoire ou une défaite pour les musulmans ?
La bataille de Poitiers en 732 est une défaite pour les musulmans.

Activité n° 2 : Travailler sur la récupération de la bataille de Poitiers par l'extrême droite.

1. D'après le texte ci-dessus, pourquoi la bataille de Poitiers de 732 est-elle importante pour l'extrême droite ?
La bataille de Poitiers de 732 est importante pour l'extrême droite car, grâce à cette bataille, Charles Martel aurait l'Occident chrétien menacé par les musulmans.
2. D'après le documentaire, donne deux exemples montrant que la récupération de cette bataille par l'extrême droite ne correspond pas à la réalité historique.
Les deux exemples montrant que la récupération de cette bataille par l'extrême droite ne correspond pas à la réalité historique sont (ou choisis) :
 - L'Occident chrétien n'était pas menacé par les musulmans : ceux-ci ne faisaient que des raids en Gaule pour piller ses richesses.
 - Il n'y avait pas à l'époque de Charles Martel et des Carolingiens un affrontement direct entre les chrétiens et les musulmans. Exemple : des rois chrétiens se sont alliés avec des chefs musulmans.
 - Les musulmans étaient tolérants : les populations des territoires conquis pouvaient garder leur religion.

Déjà ce prof dont je ne donnerais pas le nom est vraiment des plus piètres, pas de vérification de ses infos, sans esprit critique absence de cohérence entre ses divers documents, il ose sortir : « Les deux exemples de territoires conquis par la dynastie des Abbassides sont : Al-Andalus [= Espagne] et le Maghreb ». Or ces colonisations ont eu lieu pour le Maghreb avant 709 et pour (presque toute) l'Espagne dès 711, les musulmans passant même les Pyrénées en 719. Or le dernier Omeyyades a été renversé et s'est réfugié -déjà !- en Espagne en 750 !

Quant à sa présentation de la récupération de la bataille de Poitiers par l'extrême droite, je vous laisse apprécier, elle vaut son pesant de cacahuètes !